

2024 年度

恵泉女学園中学校 第 2 回 入学試験問題

社会
(30分)

全 13 ページと別紙地図

- 注意 1. 開始のチャイムと同時に、問題用紙と解答用紙の計 2 か所に受験番号と氏名を記入しなさい。
2. 答えは解答用紙に書きなさい。

受験番号	氏 名

1 次の恵泉女学園高等学校の卒業生2人の会話文を読んで、問いに答えなさい。

恵子：いずみは恵泉の行事の中で何が一番印象に残ってる？

いずみ：なんといってもA「ヒロシマ平和の旅」ね。わたし途中^{とちゅう}でみんなとはぐれちゃったりしたから…。そういえば広島ではサミットが開かれていたわね。

恵子：そうそう、アメリカ・カナダ・(①)・ドイツ・フランス・イタリアの代表者などがやってきて、B広島で話し合いをしたのよね。今までだと東京、九州・沖縄、北海道、伊勢・志摩で開催^{かいさい}されてきたけど、今回はなぜ広島が選ばれたの？

いずみ：ロシアがウクライナへ侵攻^{しんこう}して核兵器^{かく}の使用をほのめかす中で、被爆地^{ひばく}である広島で会議を開いて平和のメッセージを発信^{はつしん}することが大事なんじゃないかと考えられたの。

恵子：そうだったんだ。広島というと最初に原爆ドームのことが思い浮かぶけど、他にどんな有名なものがあるのかな？

いずみ：観光でいえば厳島神社や広島城があるし、わたしはお好み焼きともみじ饅頭^{まんじゅう}が大好き！それから工業では、広島を含むC瀬戸内工業地域は、関東南部から九州北部に帯のように広がっている(②)の一角になっているね。魚介類^{ぎょかい}でいったらなんといっても(③)で、D漁獲量^{ぎょかく}が日本一なの。豊かなE森林の栄養が溶け込んだ太田川が流れ込んだ広島湾には(③)を育てるための筏^{いかだ}がたくさん浮いているのよ。果物ではF気候^{きこう}の特徴を生かした(④)の栽培^{さいばい}をしていて、これも収穫量^{しゅうかく}が日本一。また、悲しい出来事としては、2018年7月には豪雨^{ごうう}によって多くの人が亡くなったことがニュースになっていたなあ。G災害の記憶^{さいおく}を風化させず、次世代へ伝えていくため、広島市ではこの災害の記録をホームページ上に載せているんだよ。

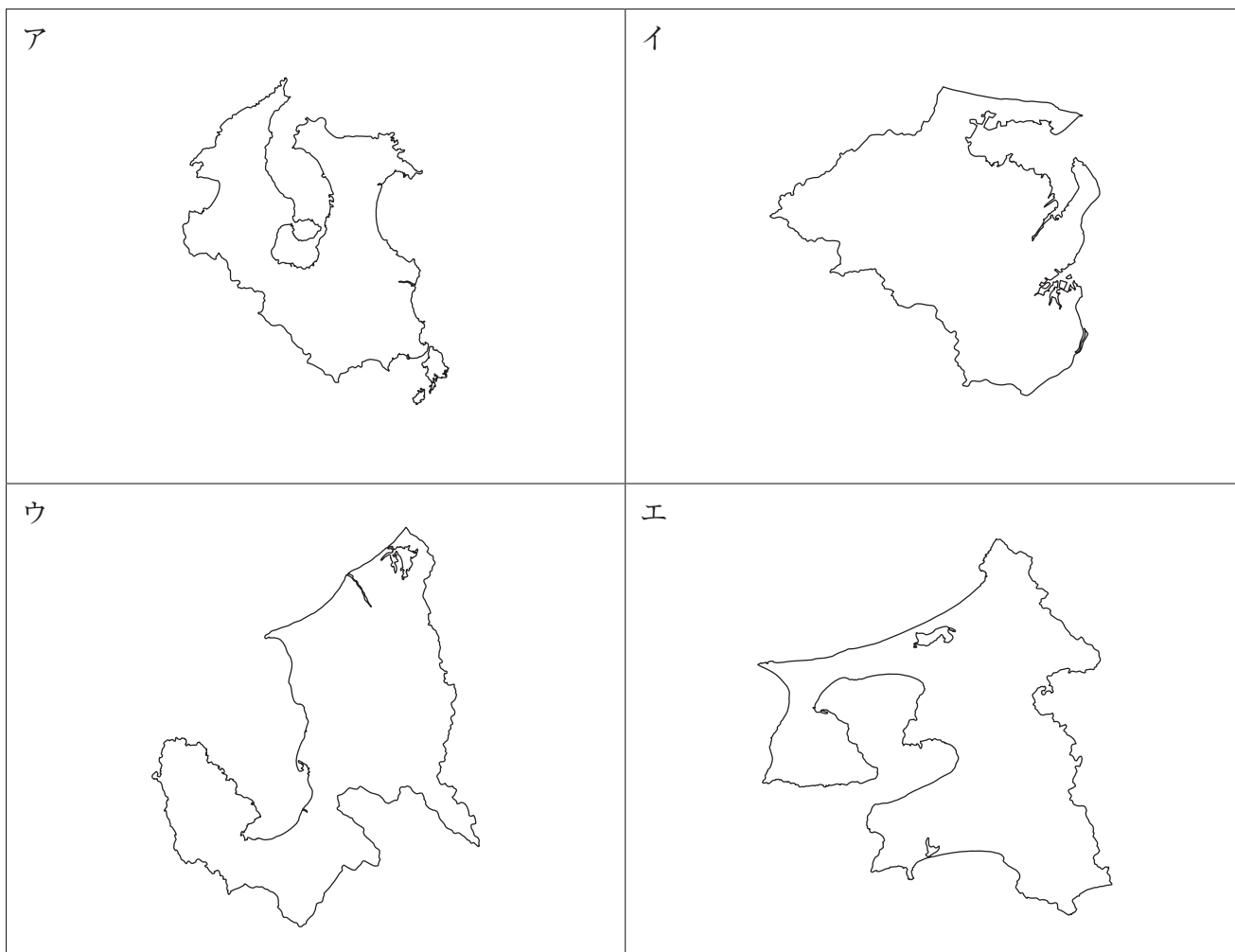
恵子：広島にはいろいろなものがあるんだね。行ってみたいくなってきた！今度一緒^{いっしょ}に行かない？

いずみ：今の時期は名産のお茶の収穫を手伝わなければいけないから、忙しくて行けないけど、いつかぜひ行きたいな。新幹線を使えば乗り換え無しでも行けるしね。

恵子：そうそう、それに広島に行くなら、うちにも遊びに来てよ。世界遺産もあるし、かつてギネスにも認定された世界最大級の吊り橋を渡って県内最大の島をめぐるのもいいね。その島ではたまねぎの生産が盛んだから、きっとおいしいたまねぎ料理も食べられるよ。

いずみ：そうね。恵子もぜひうちに来てね。畜産^{ちくさん}がとても盛んなところだから、飼育頭数が日本一の豚をはじめ、牛や鶏^{とり}のお肉が食べられるよ。ピーマンも有名だし、秋に来てくれれば焼き芋^{いも}やスイートポテトもふるまっちゃうわ。

- (1) (①) に当てはまる国名を答えなさい。また、(①) に関する説明として正しいものを一つ選び、記号で答えなさい。
- ア. ヨーロッパ連合に加盟している。
 - イ. 大統領が国の代表者として政治をまとめている。
 - ウ. 0度の経線が通っている。
 - エ. 通貨はユーロを使用している。
- (2) (②)・(③) に当てはまる語句を答えなさい。
- (3) (④) に当てはまる果物として正しいものを一つ選び、記号で答えなさい。
- ア. みかん
 - イ. レモン
 - ウ. マンゴー
 - エ. さくらんぼ
- (4) 広島市の中心部は太田川が運んできた土砂が河口付近に堆積することによってできた地形が広がっています。このような地形を何といいますか、漢字で答えなさい。
- (5) 恵子さんが現在住んでいる都道府県に隣接している都道府県に関して述べた文として誤っているものを一つ選び、記号で答えなさい。
- ア. 日本三景の一つがある。
 - イ. 国際空港がある。
 - ウ. シジミの漁獲量が日本一の都道府県がある。
 - エ. 砂丘を利用したらっきょう栽培が盛んな都道府県がある。
- (6) いずみさんが現在住んでいる都道府県として正しいものを一つ選び、記号で答えなさい。なお、各都道府県の縮尺は異なります。また、方位も正しいとは限りません。



(7) 下線部Aについて、別紙を見て問いに答えなさい。

(8) 下線部Bについて、次の表中I～IVは、サミットが開催された県のうち、広島・宮崎・三重・福岡のいずれかを示しています。I～IVの県について述べた文として正しいものをア～エから一つ選び、記号で答えなさい。

	人口 (万人) 2021 年	県民 1 人あたりの 所得 (万円) 2019 年	県内総生産 (億円) 2018 年	農業産出額 (億円) 2020 年	乗用車の 保有台数 (十万台) 2021 年
I	512	283.8	198,080	1,977	26.46
II	281	315.3	117,137	1,190	14.74
III	180	298.9	84,114	1,043	11.68
IV	109	242.6	37,402	3,348	6.85

(地理統計要覧 2023 年版などより作成)

ア. 人口の多い県ほど県民 1 人あたりの所得が多い。

イ. 県内総生産に占める農業産出額が最も少ない県が、県民 1 人あたりの所得が四県の中で最も高い。

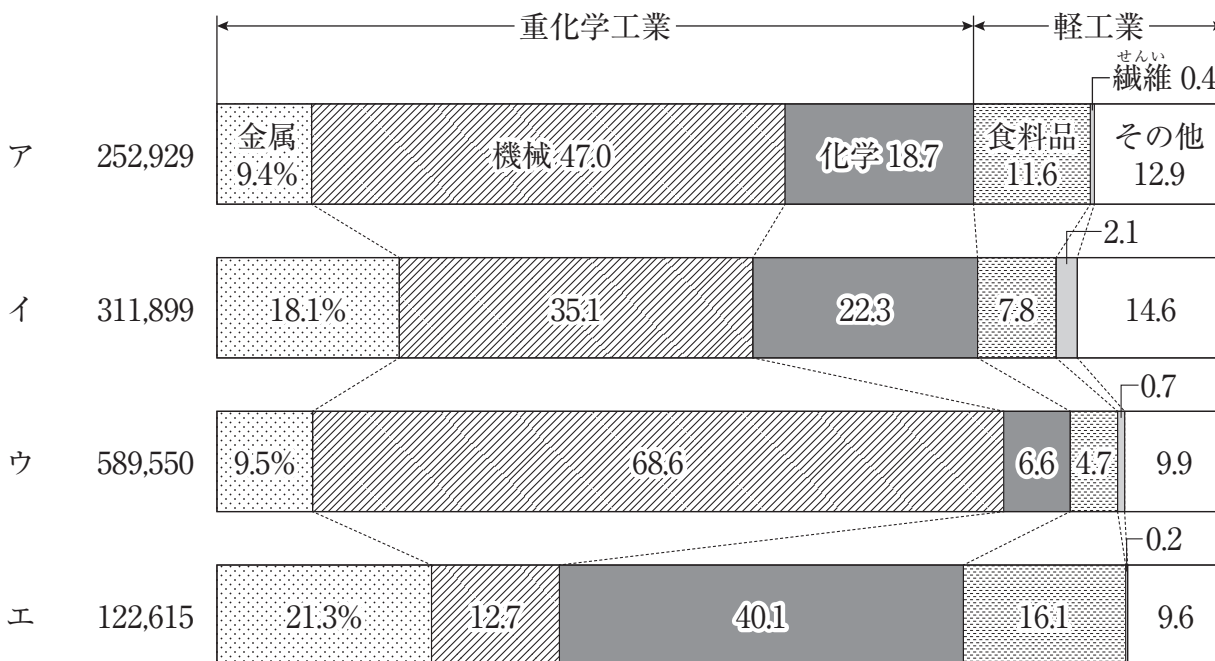
ウ. 1 人あたりの県内総生産が四県の中で最も多い県は II である。

エ. 四県とも 1 人あたりの乗用車の保有台数は 0.5 台を上回っている。

(9) 下線部Cについて、次のア～エは京葉・瀬戸内・京浜・中京のいずれかの工業地域・工業地帯の製造品出荷額とその構成を示しています。瀬戸内工業地域に当てはまるものを選び、記号で答えなさい。

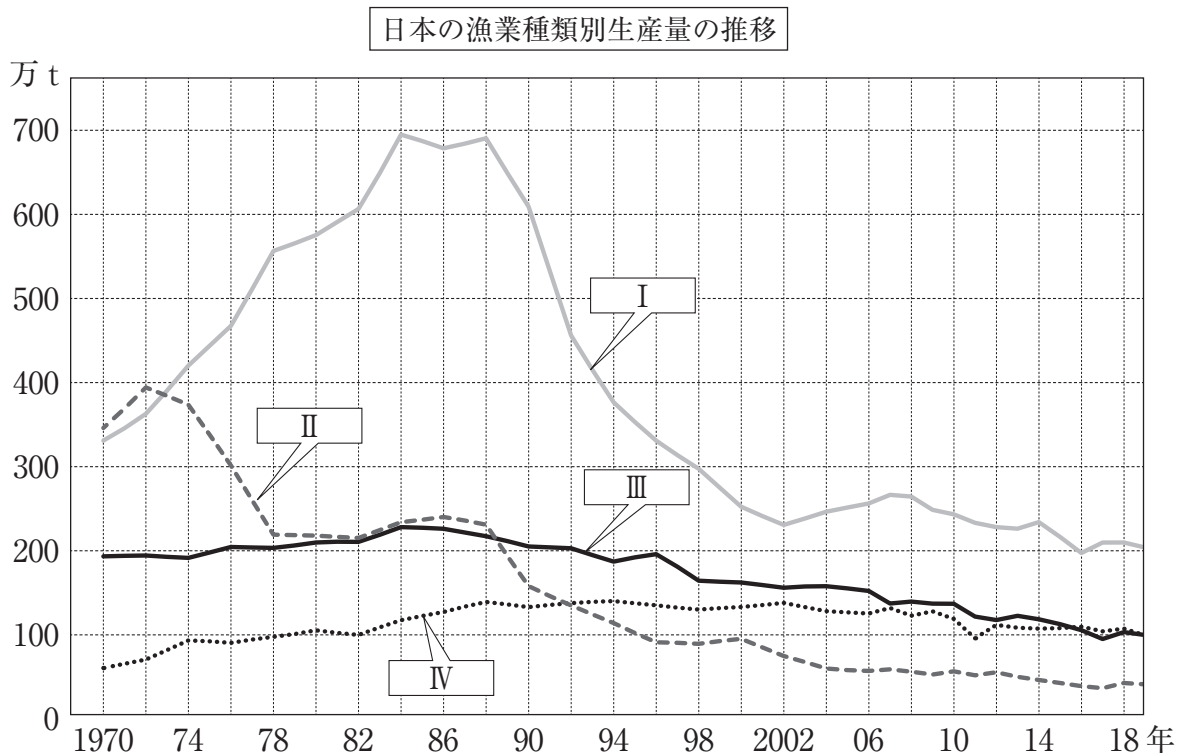
製造品出荷額の構成 (2019 年)

製造品出荷額
(2019 年・億円)



(日本国勢図会 2022/2023 より作成)

- (10) 下線部Dについて、次のグラフ中のI～IVについて述べた文として正しいものをア～エから一つ選び、記号で答えなさい。

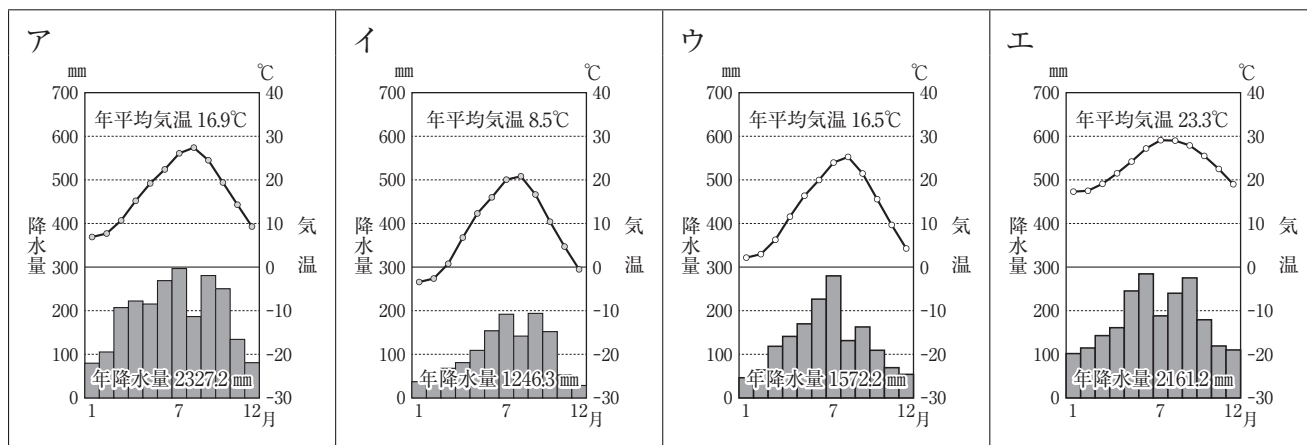


(農林水産省資料などより作成)

- ア. Iでは日本近海や排他的経済水域内で、主にイワシやサンマなどを獲っている。
 イ. IIではホタテや海苔などを大きく成長するまで生簀などで育て、獲っている。
 ウ. IIIは日本から遠く離れた海で行われ、主にマグロやカツオなどを獲っている。
 エ. IVは主に海岸から見える範囲で操業し、底びき網などを使って魚介類を獲っている。
- (11) 下線部Eについて、日本の森林・林業に関して述べた文として正しいものを一つ選び、記号で答えなさい。

- ア. 輸入木材よりも国産木材の使用量の方が多い。
 イ. 国土に占める森林の割合は、全体の3分の2ほどである。
 ウ. 林業に就業する人の数は年々増加している。
 エ. ウッドショックにより、近年木材価格が大幅に下落している。

- (12) 下線部Fについて、次の雨温図のうち広島を示したものを選び、記号で答えなさい。




(気象庁資料などより作成)

社会—5

(13) 下線部Gについて、いずみさんはインターネット上で自然災害伝承碑^ひの分布を確認していたところ、操作を誤って日本列島の地図を消してしまいました。次の図は、津波・高潮・土砂災害・火山災害^{つなみ}のいずれかについて記載された自然災害伝承碑^{きさい}の分布を示したものです。土砂災害について記載された自然災害伝承碑の分布を示した図をア～エから選び、記号で答えなさい。

なお、図は九州（南西諸島を除く）を南限、東北地方南部を北限としています。

ア



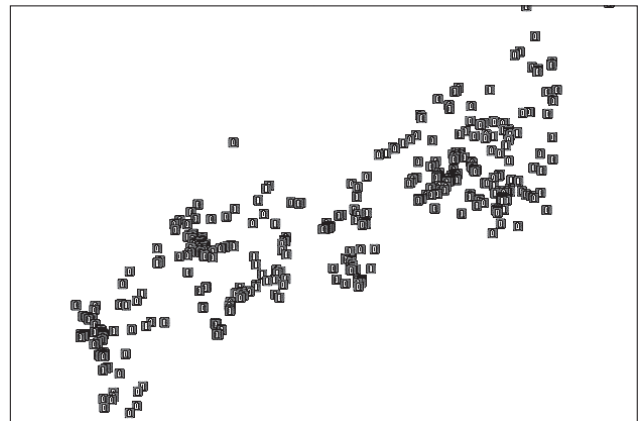
イ



ウ



エ



(地理院地図（電子国土 Web）より作成)

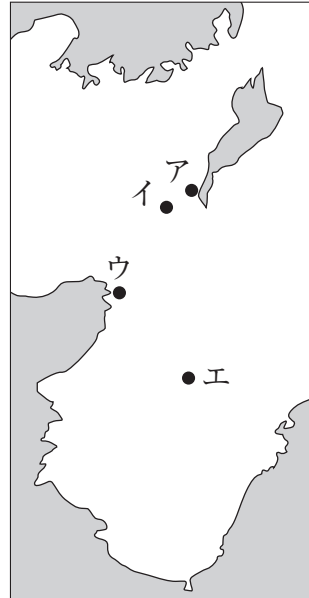
2 日本のお金の歴史をまとめた次の年表について、問いに答えなさい。

時代	年号	主な出来事
縄文		貨幣はまだなく、人々は物々交換を行う
弥生		
古墳		
飛鳥		米・布・塩などが貨幣のような役割を果たす
		A <u>天武天皇</u> によって「富本銭」が <u>铸造</u> される
奈良	B <u>708年</u>	元明天皇によって「和同開珎」が <u>铸造</u> される
		C
平安	958年	村上天皇によって「乾元大宝」が <u>铸造</u> される
鎌倉		
		D
室町		
安土・桃山		E <u>豊臣秀吉</u> によって「天正大判」などが <u>铸造</u> される
江戸		(①) によって統一貨幣の <u>铸造</u> が始まる
		(②) によって「寛永通宝」が <u>铸造</u> される
		(③) が「寛永通宝」以外の銭を使用禁止にする
明治		F <u>貨幣の基本単位を「円」とする</u>
	1882年	日本の中央銀行*として「日本銀行」が <u>設立</u> される
大正		
昭和	1930年	「百円紙幣」にG <u>聖徳太子（厩戸王）</u> が <u>描</u> かれる
		H
	I <u>1946年</u>	経済混乱に対応するために新紙幣への切り替えなどを行う
	1950年	新紙幣切り替え後、初の千円札が <u>発行</u> される
平成	2001年	交通系電子マネー「Suica」が <u>登場</u> する
令和	2019年	J <u>政府</u> は2024年度の上半期をめぐりに紙幣のデザイン <u>変更</u> を発表する
	2024年	7月頃、20年ぶりにK <u>新紙幣</u> が <u>発行</u> される

* 中央銀行…紙幣発行権などの機能を持つ、政府の銀行のこと。

社会—7

- (1) 下線部Aについて、この人物の説明として正しいものを一つ選び、記号で答えなさい。
- ア. 壬申の乱に勝利して天皇となり、律令国家の土台をつくった。
 - イ. 中臣鎌足と協力して蘇我氏をたおし、天皇中心の国づくりをめざして改革を行った。
 - ウ. 天皇になる前は中大兄皇子といわれ、仏教を広めるため国ごとに国分寺を建てた。
 - エ. 家柄いえがらに関係なく、能力や功績によって政治を行う役人を取り立てた。
- (2) 下線部Bについて、この時の都の名称を漢字で答えなさい。また、その都があった場所を次の地図中から一つ選び、記号で答えなさい。



- (3) Cの間で起こった出来事として正しいものの組み合わせを一つ選び、記号で答えなさい。

- | |
|--|
| <ol style="list-style-type: none">1. 小野妹子が遣隋使として派遣<small>はけん</small>された。2. 『古事記』、『日本書紀』が成立した。3. 仏教や漢字が大陸から日本に伝わった。4. 行基の協力によって東大寺の大仏がつくられた。 |
|--|

ア. 1と2 イ. 1と3 ウ. 1と4 エ. 2と3 オ. 2と4 カ. 3と4

- (4) Dについて、問いに答えなさい。

- (i) 次の資料はこの間に起こったある戦いえがを描いています。この戦いの相手国はどこですか、漢字一字で答えなさい。



- (ii) (i) との戦いでは、恩賞(ほうび)をもらえなかった武士が多くいたとされています。幕府が武士たちへ恩賞あたを与えられなかった理由を説明しなさい。
- (iii) Dの時期に行われたこととして誤あやまっているものを一つ選び、記号で答えなさい。
- ア. 中国から輸入された貨幣かへいが、日本の通貨として使用されていた。
- イ. 堺や長崎などを拠点きょてんに南蛮貿易が行われ、主に生糸などを輸入していた。
- ウ. 安土城の城下町では、市場の税がかからず誰でも自由な商売が認められていた。
- エ. 大阪は「天下の台所」と呼ばれ、全国から年貢米が集められていた。

- (5) 下線部Eの人物に関する文として当てはまらないものを一つ選び、記号で答えなさい。
- ア. 朝鮮に大軍を送るための拠点として、佐賀県に名護屋城を築いた。
- イ. 田畑のよしあし、広さ、収穫しゅうかくできる米の量、耕作人きさせいを記載した検地帳をつくらせた。
- ウ. 百姓たちから刀や鉄砲などの武器を取り上げて、反抗はんこうできないようにした。
- エ. キリスト教を保護し、京都に教会堂である南蛮寺の建築を許可した。
- (6) (①) ~ (③) には、江戸幕府の将軍名が入ります。それぞれの将軍の説明として正しい組み合わせを一つ選び、記号で答えなさい。

a…生き物を保護し、殺傷してはならないという内容の法令を發布した。

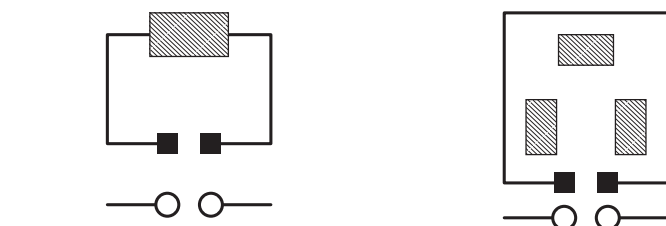
b…約 12 万人の幕府軍を送り、九州で起こった島原・天草一揆をしずめた。

c…大阪夏の陣の翌年に亡くなり、日光東照宮にまつられた。

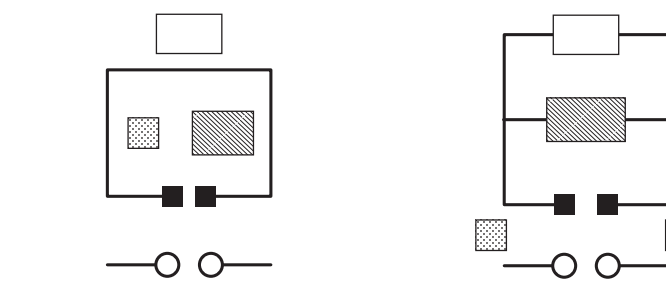
- ア. ① - a ② - b ③ - c イ. ① - b ② - c ③ - a
- ウ. ① - a ② - c ③ - b エ. ① - b ② - a ③ - c
- オ. ① - c ② - a ③ - b カ. ① - c ② - b ③ - a

- (7) 下線部Fに関連して、日本初の銀行の設立や 500 以上の会社設立に関わり、近代日本の経済の基礎を築いたのは誰ですか、漢字で答えなさい。
- (8) 下線部Gが建てた、現存する世界最古の木造建築を上空から見たとき、その配置として正しいものを凡例はんれいを参考に一つ選び、記号で答えなさい。

ア. イ.



ウ. エ.



<凡例>

◻ 講堂

◻ 塔

▨ 金堂

■ ■ 中門

○ ○ 南大門

- (9) 次のア～オは日の中に日本や世界で起こった出来事です。この出来事を古い順に並べ替え、記号で答えなさい。
- ア. 日本各地で空襲が始まる。
 - イ. 日本国憲法が公布される。
 - ウ. 満州事変が起こる。
 - エ. 日本が国際連盟を脱退する。
 - オ. 日中戦争が起こる。
- (10) 下線部 I から 10 年後の日本や世界のように当てはまるものを一つ選び、記号で答えなさい。
- ア. 日本はサンフランシスコ平和条約に調印した。その一方で、招待されない国やこの条約に調印しない国もあった。
 - イ. 日本の国民総生産額がアメリカについて世界第二位となった。国民の生活も豊かになり、自動車、クーラー、カラーテレビが普及した。
 - ウ. 日本では、土地などの価格が本来よりも急激に高くなるバブル経済となった。その後バブルが崩壊し、不景気が長く続いた。
 - エ. 日本はソ連と国交を回復した。また、戦後発足していた国際連合への加盟が認められ、国際社会に復帰した。
- (11) 下線部 J について、次の写真は現在政府が発行している 10 円硬貨です。このデザインに使われている建築物がつけられた時代に起こった出来事として正しいものを一つ選び、記号で答えなさい。ただし、正しいものがない場合は、「オ」と解答すること。



(造幣局ホームページより)

- ア. 賀茂祭や曲水の宴、端午の節句などの年中行事が整備され、盛んに行われた。
- イ. 朱印船貿易が盛んに行われ、東南アジア各地に日本町がつけられた。
- ウ. 将軍のあとつぎ問題などから応仁の乱が起こり、京都が焼け野原となった。
- エ. 違い棚や付書院などがあり、障子やふすまで仕切った書院造の部屋がつけられた。

(12) 下線部Kについて、資料Ⅰ～Ⅲに関する問いに答えなさい。

[資料Ⅰ：現在の紙幣]



[資料Ⅱ：新紙幣]



[資料Ⅲ：新紙幣]



(資料Ⅰ：国立印刷局ホームページより)

(資料Ⅱ・Ⅲ：財務省ホームページより)

- (i) 資料Ⅰ・Ⅱについて、Ⅱでは金額が算用数字で中央に大きく印字されています。なぜこのように変更されたのか、そのねらいを説明しなさい。
- (ii) 資料Ⅲに描かれた絵の作者名と、その時代のような組み合わせとして正しいものを一つ選び、記号で答えなさい。

1. 葛飾北斎
2. 歌川広重
3. 近松門左衛門が歌舞伎や人形浄瑠璃きやくほんの脚本を書き、人々に親しまれた。
4. 雪舟が中国から伝えられた水墨画を大成し、絵師たちに影響えいきょうを与えた。

ア. 1と3 イ. 1と4 ウ. 2と3 エ. 2と4

- (iii) 資料Ⅲに描かれた絵が、当時流行した理由として当てはまらないものを一つ選び、記号で答えなさい。

- ア. 多色刷りの版画だったので、大量に刷ることができたから。
- イ. 商人らが資金を出し合い、寺子屋で絵師を育成していたから。
- ウ. 一枚の値段が安かったため、人々が手軽に買うことができたから。
- エ. 江戸からふるさとへのみやげとして買い求められたから。

- 3 次の文章は、日本の内閣総理大臣の日記である。これを読んで問いに答えなさい。ただし、この日記は試験問題用に創作したものである。

10月10日（火）

世界で恐ろしい感染症^{おそろししょう}が流行している。このワクチンを早く入手せねばならない。このワクチンを持っているのはX国である。X国から買うしかないが……。うまくいくかな。

10月17日（火）

現在のX国の通貨「ドル」と、わが国の通貨「円」の交換比率^{こうかん}は「1ドル＝200円」。このワクチンは1人分が10ドル。国民5000人分を確保するとすると、円必要だ。資金はあるのか、財務大臣に聞いてみよう。

10月21日（土）

財務大臣はまゆをひそめていたな……。すぐには準備できないらしい。内閣で話し合ってよいアイデアが出ればよいのだが。

10月25日（水）

財務大臣は、今すぐ用意できるお金は750万円しかないという。するとかなり不足する。うーん……。

11月1日（水）

中央銀行のトップがこんなことを言ってきた。「円とドルの交換比率を操作しましょう」と。つまり、今の交換比率が「1ドル＝200円」だが、それを「1ドル＝円」に変えてしまえば、国民5000人分のワクチンが用意できるというのだ。それは確かによい案だが、いったいどうすれば。

11月2日（木）

秘密のうちに進めてきたはずが、野党議員に漏^もれてしまった。次の政権^{ねら}を狙っている者たちだ。「交換比率を操作するとはとんでもない。国民の生活がめちゃくちゃになる」と言うのだ。「めちゃくちゃ」ってずいぶんだ。そんな言い方しなくてもいいのに……。

11月8日（水）

「めちゃくちゃ」という言葉が心に刺^ささった。家族はどう思うかメールで聞いてみた。するとこんな返信があった。「1ドル＝円になったら、確かにいますぐにワクチンは買えるけど、

11月14日（火）

A国会で、私を辞めさせようとする動きがあるようだ。さらに、街ではB政府を批判する集会までも開かれたようだ。まあ、憲法で認められている権利だからな……。

- (1) ・ に当てはまる数字の組み合わせとして正しいものを一つ選び、記号で答えなさい。
- ア. I : 1,000,000 II : 250 イ. I : 1,000,000 II : 150
 ウ. I : 1,250,000 II : 250 エ. I : 1,250,000 II : 150
 オ. I : 10,000,000 II : 250 カ. I : 10,000,000 II : 150
 キ. I : 12,500,000 II : 250 ク. I : 12,500,000 II : 150
- (2) には、家族からの返信が入ります。その内容として正しいものを一つ選び、記号で答えなさい。
- ア. X国に旅行に行きたい人にとっては不利よね。だって旅行代が高くなるんじゃない？
別に感染症が流行^{はや}っていたって行きたい人は行きたいもの。
- イ. 友達なくすよ。だって友達は、X国に車や機械を輸出している方ばかりでしょう？
今までと同じだけ輸出していたら不利になるよね。
- ウ. 友達のみっちゃんは怒るだろうなあ・・・。^{おこ}彼女、X国からアクセサリーを買いつけて売っているのよ。今までと同じだけ買いつけていたら不利になるんじゃない？
- エ. バイト仲間の^{かれ}彼、X国にいる家族に仕送りしているの。彼は不利になるわ。だって働く時間は同じなのに、家族が受け取るお金が減ってしまうもの。
- (3) 下線部Aについて、誤っているものを一つ選び、記号で答えなさい。
- ア. 衆議院は参議院とは異なり、任期の途中^{とちゅう}で選挙を行うことができる。
- イ. 国民に憲法改正を提案することができるのは、衆議院のみである。
- ウ. 内閣総理大臣は、国会議員によって国会議員の中から選ばれる。
- エ. 国会には、裁判官を辞めさせるかどうか判断する裁判所がある。
- (4) 下線部Bについて、この自由と同じ種類の自由として正しいものを一つ選び、記号で答えなさい。
- ア. 自分がつきたい職業を選ぶこと
 イ. 自分が住みたいところに住むこと
 ウ. 自分で書きたい小説を書いて出版すること
 エ. 自分で働いて税金を納めること

(5) この日記は11月14日(火)で終わっています。このあと、内閣総理大臣のもとにたくさんのメールが送られてきました。その中の一通が次の花子さんからのメールです。あなたが花子さんなら ① ・ ② にどのような文を入れますか、考えて答えなさい。

花子さんからのメール

あてさき
宛先 内閣総理大臣様

差出人 田中花子

件名 ワクチン接種について

.....

お願いがあります。
ワクチンはあくまでも、打ちたいと思う人が打つようにしてください。

なぜならば

①

つまり

②

よろしくおねがいします。

返信

